

VERIFICA LE CONOSCENZE

1. Indica con una crocetta la risposta giusta.

- | | |
|---|--|
| <p>a. Il paesaggio è:</p> <p><input type="checkbox"/> a. l'insieme delle condizioni climatiche e fisiche di un luogo</p> <p><input type="checkbox"/> b. l'insieme delle caratteristiche visibili di un ambiente</p> <p><input type="checkbox"/> c. uno spazio terrestre organizzato dall'uomo</p> <p>b. La crosta terrestre è:</p> <p><input type="checkbox"/> a. compatta</p> <p><input type="checkbox"/> b. costituita da blocchi separati, le zolle</p> <p><input type="checkbox"/> c. costituita da rocce fuse, il magma</p> <p>c. Le montagne:</p> <p><input type="checkbox"/> a. nascono a causa delle forze endogene della Terra</p> <p><input type="checkbox"/> b. sono tutte di origine vulcanica</p> <p><input type="checkbox"/> c. nascono a causa delle forze esogene della Terra</p> <p>d. Le Alpi sono geologicamente un rilievo:</p> <p><input type="checkbox"/> a. antichissimo</p> <p><input type="checkbox"/> b. antico</p> <p><input type="checkbox"/> c. giovane</p> <p>e. Nelle Alpi, oltre i 3000 metri:</p> <p><input type="checkbox"/> a. la vegetazione è quasi assente</p> <p><input type="checkbox"/> b. crescono boschi di conifere</p> <p><input type="checkbox"/> c. sono presenti boschi di querce</p> | <p>f. Le acque della Terra:</p> <p><input type="checkbox"/> a. non influiscono sulla forma del paesaggio</p> <p><input type="checkbox"/> b. esercitano solo un'azione di erosione</p> <p><input type="checkbox"/> c. esercitano un'azione di erosione e di sedimentazione</p> <p>g. Le insenature sono:</p> <p><input type="checkbox"/> a. ampie rientranze nella costa</p> <p><input type="checkbox"/> b. penisole con promontori</p> <p><input type="checkbox"/> c. piccole rientranze nella costa</p> <p>h. Il secondo fiume italiano per lunghezza è:</p> <p><input type="checkbox"/> a. il Tevere</p> <p><input type="checkbox"/> b. l'Adige</p> <p><input type="checkbox"/> c. il Ticino</p> <p>i. Individua l'intruso tra questi fattori del clima:</p> <p><input type="checkbox"/> a. latitudine</p> <p><input type="checkbox"/> b. altitudine</p> <p><input type="checkbox"/> c. longitudine</p> <p>l. Inverni molto miti con poche precipitazioni, estati calde con siccità sono caratteristici del:</p> <p><input type="checkbox"/> a. clima mediterraneo</p> <p><input type="checkbox"/> b. clima della regione adriatica</p> <p><input type="checkbox"/> c. clima della regione tirrenica</p> |
|---|--|

2. Indica con una crocetta se le affermazioni sono vere (V) o false (F).

- | | | |
|--|----------------------------|----------------------------|
| a. La catena del Caucaso segna il confine orientale dell'Europa. | <input type="checkbox"/> V | <input type="checkbox"/> F |
| b. Le montagne europee si trovano soprattutto nel Nord e nel Sud del continente. | <input type="checkbox"/> V | <input type="checkbox"/> F |
| c. Le cime europee più elevate si trovano negli Urali. | <input type="checkbox"/> V | <input type="checkbox"/> F |
| d. Le più vaste pianure europee si trovano nelle regioni orientali. | <input type="checkbox"/> V | <input type="checkbox"/> F |
| e. Le isole europee più estese si trovano nel Mediterraneo. | <input type="checkbox"/> V | <input type="checkbox"/> F |
| f. I fiordi sono antiche valli glaciali invase delle acque marine. | <input type="checkbox"/> V | <input type="checkbox"/> F |
| g. Il Danubio sfocia nel mar Nero. | <input type="checkbox"/> V | <input type="checkbox"/> F |
| h. Il più lungo fiume d'Europa scorre in territorio russo. | <input type="checkbox"/> V | <input type="checkbox"/> F |
| i. Il Reno è uno dei più importanti fiumi europei. | <input type="checkbox"/> V | <input type="checkbox"/> F |
| l. Le Cicladi si trovano nel mar Ionio. | <input type="checkbox"/> V | <input type="checkbox"/> F |

VERIFICA LE COMPETENZE

UTILIZZARE LE IMMAGINI

3. Osserva l'immagine, poi indica con una crocetta la parola giusta.



- a. L'età geologica di questa montagna è:
 - a. antica
 - b. recente
- b. Quale elemento hai considerato per rispondere al punto precedente?
 - a. la presenza di neve
 - b. la forma della vetta
 - c. la mancanza di vegetazione
- c. A quale catena montuosa italiana potrebbe appartenere più probabilmente questa montagna?
 - a. alle Alpi
 - b. agli Appennini

4. Osserva l'immagine.

- a. Di che tipo di costa si tratta?
 - a. alta e rocciosa
 - b. bassa e sabbiosa
- b. Inserisci nella foto le lettere relative ai seguenti elementi naturali:
 - a. faraglione
 - b. arco naturale
- c. Quale azione prevalente esercita il mare su questa costa?
 - a. sedimentazione
 - b. erosione



5. Osserva l'immagine.

- a. Tra gli elementi proposti, segna quelli che vedi nel paesaggio della foto e che sono segno dell'intervento umano.

1. abitazioni
2. imbarcazioni
3. treni
4. alberi
5. vigneti
6. prati
7. corsi d'acqua
8. automobili
9. ponti
10. staccionate
11. animali
12. macchinari agricoli



- b. Che tipo di insediamento è rappresentato?
 a. urbano b. rurale
- c. Secondo te, a quali utilizzi è destinato il corso d'acqua?
 a. turismo
 b. trasporto di merci
 c. trasporto di persone
 d. irrigazione per i campi
- d. Secondo te, qual è probabilmente il clima del luogo dell'immagine?
 a. mediterraneo
 b. continentale
 c. montano
- e. A quali settori appartengono le principali attività produttive che puoi individuare in questo paesaggio?
 a. agricoltura c. industria
 b. allevamento d. trasporti

6. Abbina in modo corretto i climi europei elencati alle corrispondenti caratteristiche riportate accanto.

- | | | |
|-----------------------|--------------------------|---|
| a. Clima atlantico | <input type="checkbox"/> | 1. Temperature rigidissime, scarse precipitazioni |
| b. Clima artico | <input type="checkbox"/> | 2. Lunga stagione fredda, breve stagione calda e afosa |
| c. Clima montano | <input type="checkbox"/> | 3. Temperature miti e piovosità abbondante |
| d. Clima continentale | <input type="checkbox"/> | 4. Brevi inverni miti, estati lunghe e calde con poche piogge |
| e. Clima mediterraneo | <input type="checkbox"/> | 5. Inverni rigidi, estati fresche e piovose |

7. Ti proponiamo alcune immagini di ambienti naturali europei. Abbina a ciascuna immagine il clima corrispondente, individuandolo tra quelli riportati.

- a. Clima artico
 b. Clima continentale
 c. Clima montano
 d. Clima atlantico
 e. Clima mediterraneo



1.

2.



3.





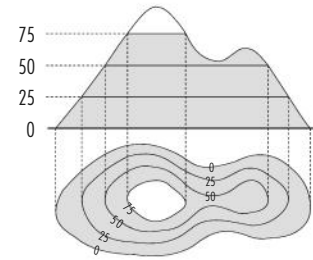
4.

5.

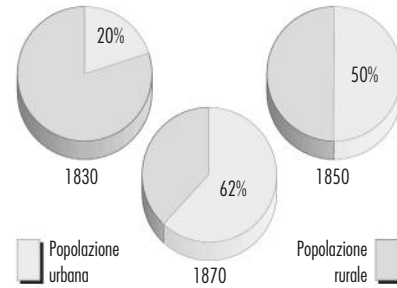
UTILIZZARE I DATI E LE CARTE

8. Indica con una crocetta la risposta giusta.

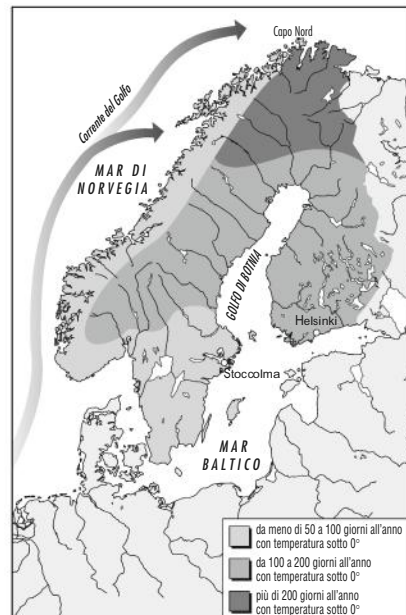
- a. Il disegno a lato riporta:
- a. un areogramma
 - b. delle curve di livello
 - c. un istogramma



- b. La popolazione urbana in Inghilterra nel 1870 era il:
- a. 20%
 - b. 50%
 - c. 62%

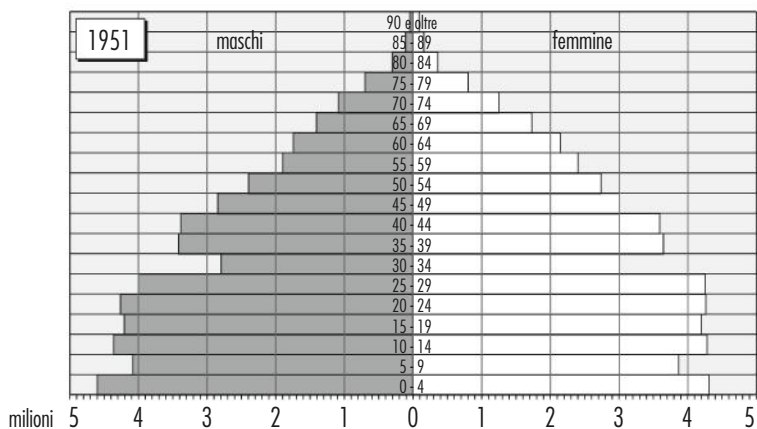


- c. A Stoccolma i giorni dell'anno con temperatura sotto gli 0 °C sono:
- a. da meno di 50 a 100
 - b. da 100 a 200
 - c. più di 200



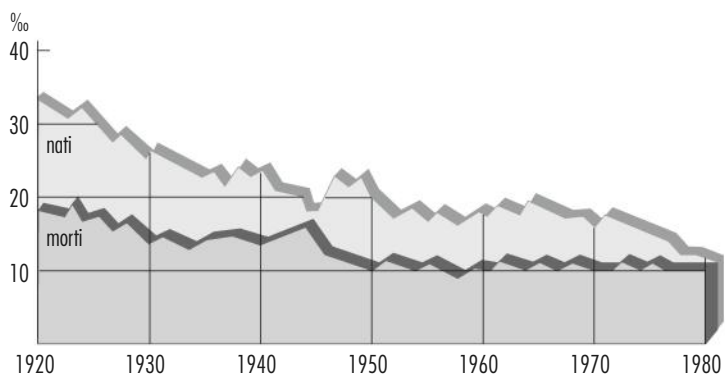
d. Nel 1951 i maschi italiani da 25 a 29 anni erano:

- a. circa 2000000
- b. 4600000
- c. 4000000



e. Il tasso di mortalità nel 1970 è stato mediamente del:

- a. 10‰
- b. 30‰
- c. 20‰



INDIVIDUARE CAUSE ED EFFETTI

9. Metti in relazione gli eventi della colonna di sinistra con quelli della colonna di destra.

- | | | |
|--|--------------------------|--|
| a. Elevata meccanizzazione dell'agricoltura | <input type="checkbox"/> | 1. Fenomeni di immigrazione |
| b. Sviluppo della produzione di foraggio | <input type="checkbox"/> | 2. Riduzione della manodopera agricola |
| c. Forte disponibilità di materie prime | <input type="checkbox"/> | 3. Diffusione dell'allevamento |
| d. Invecchiamento della popolazione | <input type="checkbox"/> | 4. Temperature relativamente miti delle coste scandinave |
| e. Passaggio della corrente del Golfo al largo delle coste norvegesi | <input type="checkbox"/> | 5. Sviluppo dell'industria estrattiva |

UTILIZZARE LE PAROLE DEL LINGUAGGIO GEOGRAFICO

10. Verifica se le parole sottolineate sono usate correttamente.

- | | SÌ | NO |
|--|--------------------------|--------------------------|
| a. L'Europa è un vero e proprio <u>continente</u> . | <input type="checkbox"/> | <input type="checkbox"/> |
| b. I <u>polder</u> sono territori che gli olandesi hanno strappato al mare. | <input type="checkbox"/> | <input type="checkbox"/> |
| c. La <u>taiga</u> è una foresta di conifere. | <input type="checkbox"/> | <input type="checkbox"/> |
| d. La <u>tundra</u> è una regione dal clima molto mite. | <input type="checkbox"/> | <input type="checkbox"/> |
| e. La <u>città</u> è un centro abitato caratterizzato da una forte densità di popolazione. | <input type="checkbox"/> | <input type="checkbox"/> |
| f. L' <u>area metropolitana</u> comprende una grande città circondata da molti centri che dipendono dal centro principale. | <input type="checkbox"/> | <input type="checkbox"/> |

11. Indica con una crocetta se le definizioni che seguono sono vere (V) o false (F).

- | | | |
|--|----------------------------|----------------------------|
| a. Il tasso di natalità indica il numero del totale dei nati in un anno in un determinato Paese. | <input type="checkbox"/> V | <input type="checkbox"/> F |
| b. Il tasso di mortalità indica il numero dei morti in un anno ogni 1000 abitanti di un determinato Paese. | <input type="checkbox"/> V | <input type="checkbox"/> F |
| c. Le piramidi d'età sono un tipo di grafico che mostra la composizione della popolazione per fasce d'età. | <input type="checkbox"/> V | <input type="checkbox"/> F |
| d. Le Borse degli affari sono speciali investimenti. | <input type="checkbox"/> V | <input type="checkbox"/> F |

12. Indica con una crocetta la risposta giusta.

- | | |
|--|--|
| <p>a. L'allevamento fa parte del settore:</p> <p><input type="checkbox"/> a. primario</p> <p><input type="checkbox"/> b. secondario</p> <p><input type="checkbox"/> c. terziario</p> | <p>c. Quella intensiva è una coltura che:</p> <p><input type="checkbox"/> a. attua una rotazione di colture nello stesso terreno</p> <p><input type="checkbox"/> b. prevede una sola coltura nello stesso terreno</p> <p><input type="checkbox"/> c. non usa concimi chimici</p> |
| <p>b. La densità della popolazione è:</p> <p><input type="checkbox"/> a. il numero di abitanti di una regione amministrativa</p> <p><input type="checkbox"/> b. il numero di abitanti per chilometro quadrato (km²)</p> <p><input type="checkbox"/> c. la grandezza di un territorio espressa in km²</p> | <p>d. La conurbazione è:</p> <p><input type="checkbox"/> a. un grande centro urbano</p> <p><input type="checkbox"/> b. un insieme di comuni</p> <p><input type="checkbox"/> c. un territorio molto urbanizzato che comprende diverse città</p> |

SOLUZIONI DEI TEST D'INGRESSO – SECONDO ANNO

Verifica le conoscenze


1 a. b; b. b; c. a; d. c; e. a; f. c; g. c; h. b; i. c; l. a

2 a. V; b. V; c. F; d. V; e. F; f. V; g. V; h. V; i. V; l. F


Verifica le competenze

3 a. b; b. b; c. a

4 a. a; b. vedi figura; c. b



5 a. vedi figura; b. b; c. a, b, c, d; d. b; e. a, b



6 a. 3; b. 1; c. 5; d. 2; e. 4

7 1. b; 2. a; 3. e; 4. c; 5. d

8 a. b; b. c; c. a; d. c; e. a

9 a. 2; b. 3; c. 5; d. 1; e. 4

10 a. NO; b. SÌ; c. SÌ; d. NO; e. SÌ; f. SÌ

11 a. F; b. V; c. V; d. F

12 a. a; b. b; c. a; d. c